


**Guía N°1 de Ciencias Naturales 2° Básico.**

**Objetivo:** Identificar la ubicación y explicar la función de algunas partes del cuerpo que son fundamentales para vivir: corazón, pulmones, estómago, esqueleto y músculos.

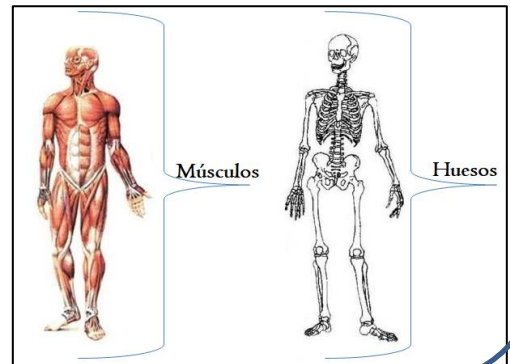
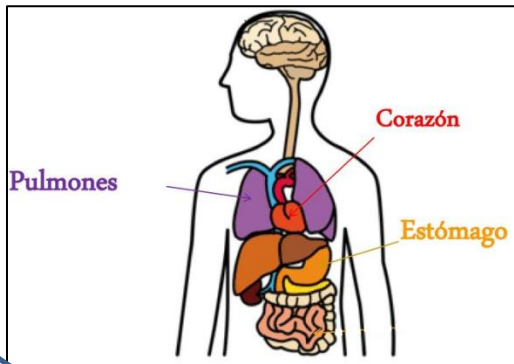
**Nombre:**

**Curso:**

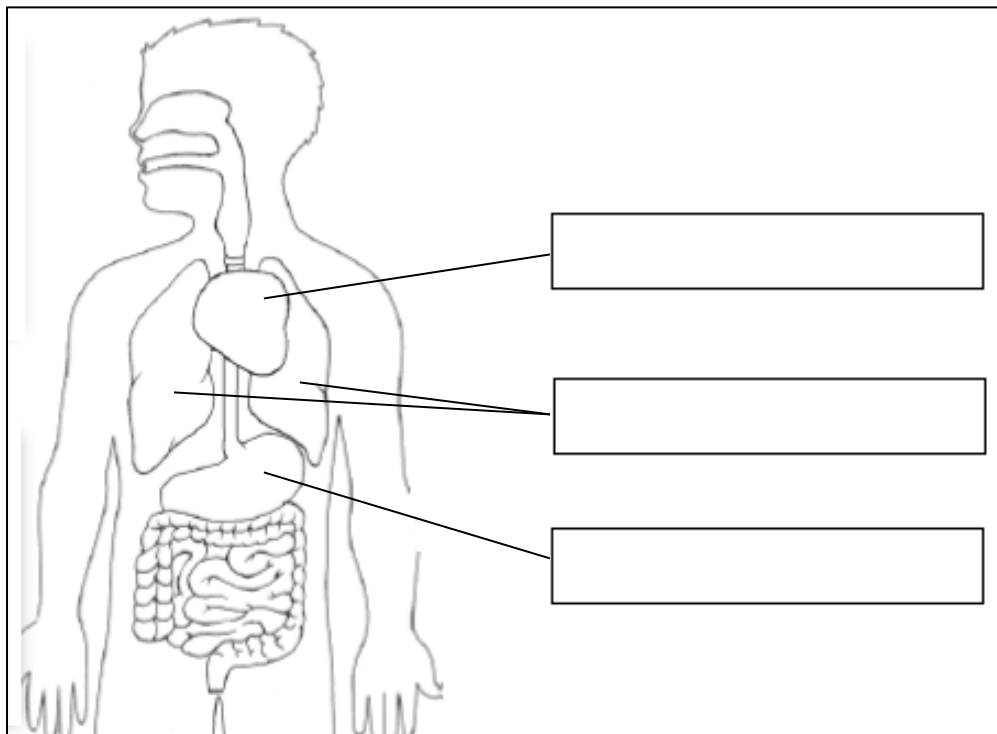
**Fecha:**



Hola, somos Sofía y José. Te acompañaremos a desarrollar esta actividad de Ciencias Naturales sobre órganos importantes del cuerpo humano como lo son el **corazón, pulmones, estómago, esqueleto y músculos**. A continuación se observa una foto de la ubicación de cada uno de ellos para que puedas desarrollar las siguientes actividades.



1. Observando la información anterior colorea en la siguiente imagen el corazón, pulmones y estómago y escribe sus nombres.

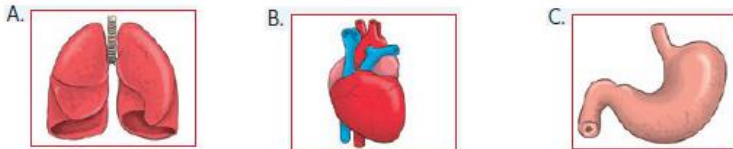


Muy bien, ya sabes identificar cada uno de los órganos trabajados anteriormente y que son importantes para el funcionamiento del cuerpo, por ejemplo el **corazón bombea la sangre hacia todo nuestro cuerpo**; los **pulmones son los encargados del intercambio de gases**, es decir, la respiración; y, el **estómago procesa alimentos para obtener nutrientes**.

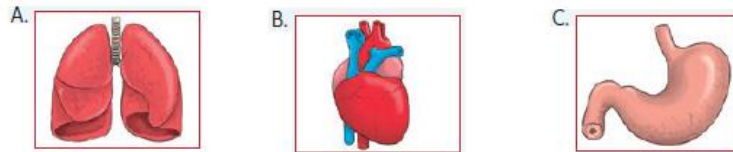


## 2. Encierra la letra de la alternativa correcta.

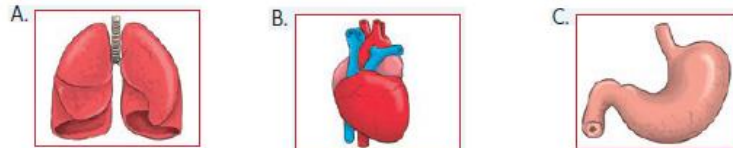
a) ¿Qué órgano bombea sangre a todas las partes de nuestro cuerpo?



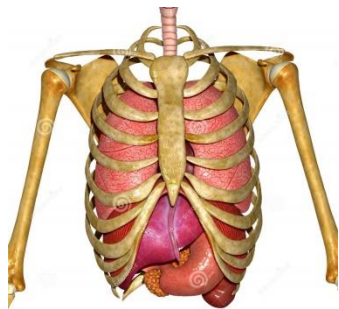
b) ¿Qué órgano participa en la incorporación de oxígeno al organismo?



c) ¿Qué órgano está ubicado en el abdomen?



El esqueleto le da soporte y forma al cuerpo, así como también protege algunos órganos internos del cuerpo y al unirlos con los músculos produce el movimiento del cuerpo, es decir, huesos y músculos trabajan en conjunto.



Las costillas protegen órganos internos como pulmones y corazón.

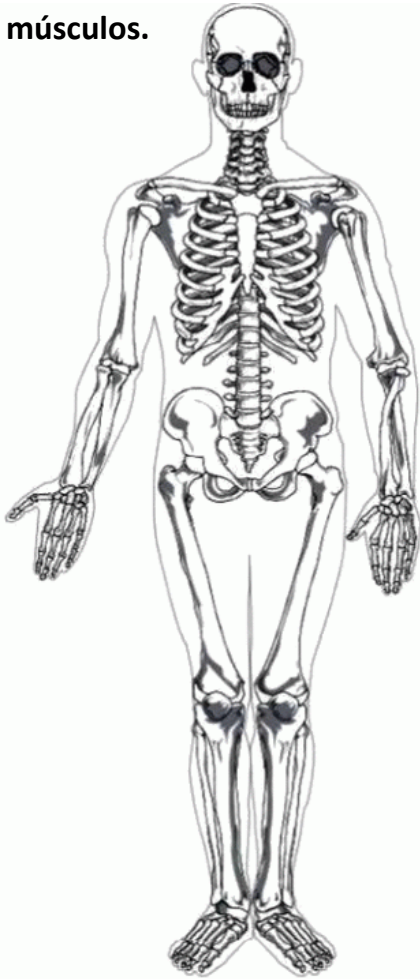


El cráneo protege al cerebro.



Huesos y músculos permiten el movimiento.

3. Pinta de color amarillo los huesos y de color café los músculos.



4. Señala el nombre y la función de cada hueso rotulado en el esqueleto.



Hueso A

Nombre: \_\_\_\_\_

Función: \_\_\_\_\_

\_\_\_\_\_

Hueso B

Nombre: \_\_\_\_\_

Función: \_\_\_\_\_

\_\_\_\_\_

5. Completa las siguientes afirmaciones empleando los órganos del cuerpo.

- a) Cuando me alimento el órgano de mi cuerpo que trabaja es el \_\_\_\_\_
- b) Al respirar se inflan mis \_\_\_\_\_
- c) Mi \_\_\_\_\_ late muy fuerte cuando corro mucho.
- d) El cráneo protege al \_\_\_\_\_
- e) Para movernos se unen huesos y \_\_\_\_\_

Felicitaciones por el trabajado desarrollado. ¡Muy bien!

