

## Prueba Sumativa Ciencias Naturales 2° Básico

Nombre: \_\_\_\_\_ Fecha: \_\_\_\_\_

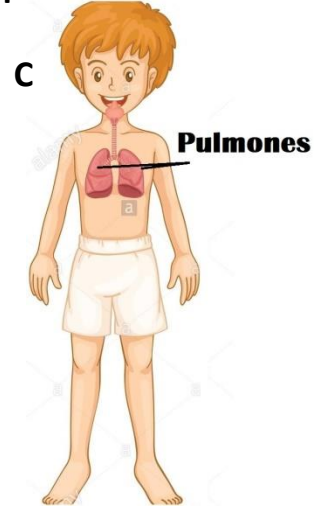
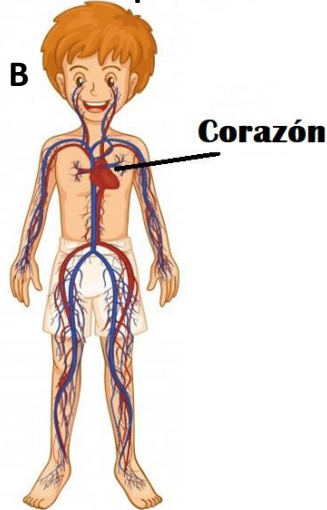
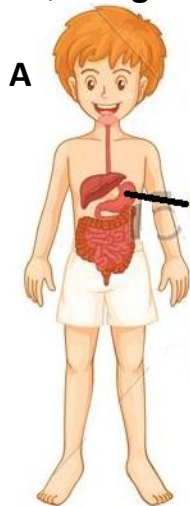
Puntaje ideal: 40 p. Puntaje obtenido: \_\_\_\_\_ Desempeño alcanzado: \_\_\_\_\_

Logrado: >32.	Medianamente logrado: 25.5 – 31.5.	Por Lograr: = o <25.
---------------	------------------------------------	----------------------

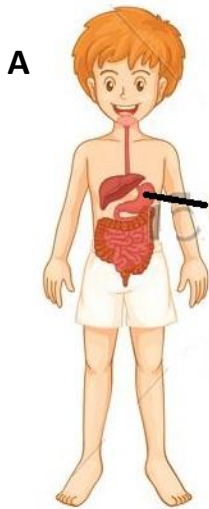
**Instrucciones generales:** En el siguiente test se presentarán una serie de preguntas en relación a lo aprendido durante el año escolar 2020 en la asignatura de Ciencias Naturales. Lee detenidamente cada una de las preguntas y responde de acuerdo a lo que recuerdas.

**I Ítem Selección Múltiple:** Lee atentamente cada una de las preguntas y encierra en un círculo la alternativa correcta.

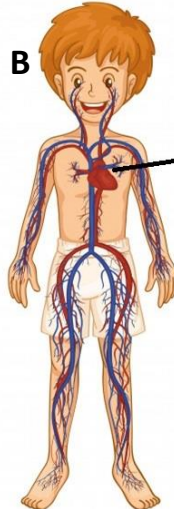
1. ¿Qué órgano bombea sangre a todas las partes de nuestro cuerpo?



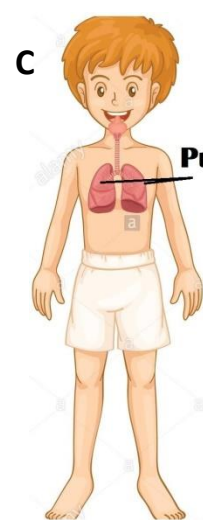
## 2. ¿Qué órgano participa en la incorporación de oxígeno al organismo?



**Estómago**

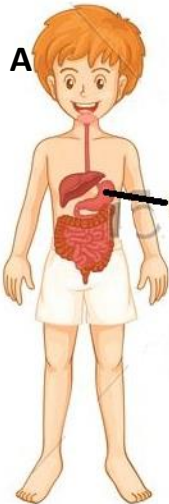


**Corazón**

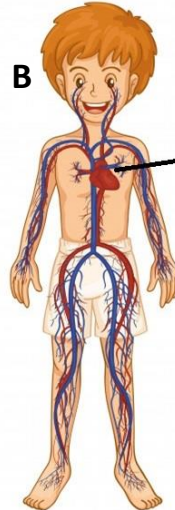


**Pulmones**

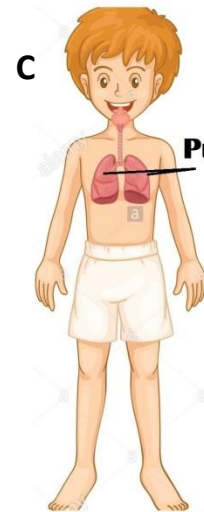
## 3. ¿Qué órgano está ubicado en el abdomen?



**Estómago**



**Corazón**



**Pulmones**


## 4. ¿Cuál de las siguientes acciones permite fortalecer los huesos, los músculos y el corazón?



**Andar en bicicleta.**



**Ver TV varias horas al día.**



**Comer comida chatarra.**

5. Observa los siguientes animales y selecciona el que es un mamífero.

A



Cocodrilo.

B



Caballo.


C



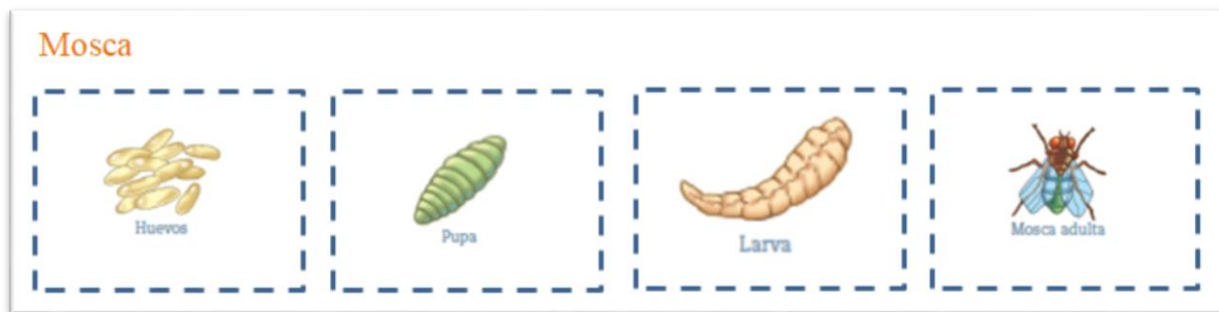
Rana.

6. Observa los siguientes ciclos de vida y selecciona el que sufre metamorfosis.


A



B



C



7. Observa los siguientes animales y selecciona el que es nativo de Chile y además se encuentra en peligro de extinción.

A



Huemul.

B



Oso polar.

C



Alpaca.

8. ¿En cuál de las siguientes imágenes el agua se encuentra en estado sólido?

A. Lluvia.



B. Vapor.



C. Nieve.



9. Observa atentamente la siguiente imagen que representa el ciclo del agua ¿En qué lugar del ciclo del agua se presenta la evaporación?



A. 1.

B. 2.

C.3.

10. ¿Cuál de las siguientes acciones permite cuidar el agua?

A. Utilizar un vaso con agua para lavarse los dientes.



B. Dejar el agua correr mientras se lava la loza.



C. Lavar el auto con agua de una manguera.



**II Ítem de Selección simple:** Verdadero o Falso. Escribe una **V** si consideras que la afirmación es verdadera o una **F** si crees que es falsa.

1. ____	Los huesos y músculos permiten el movimiento del cuerpo.
2. ____	Las personas son los principales responsables de que algunos animales nativos de Chile se encuentren en peligro de extinción.
3. ____	El caballo es un animal nativo de Chile.
4. ____	El hielo es un ejemplo del agua en estado líquido.
5. ____	El sol permite que el agua se pueda evaporar en la naturaleza.

**III Ítems de respuesta específica.**

¿A qué grupo de vertebrados perteneces tú y por qué? (ave, mamífero, pez, reptil o anfibio)


### Pauta de corrección

<b>I Ítem Selección Múltiple.</b>		
Nº de pregunta	Clave	Puntaje
1	B	2
2	C	2
3	A	2
4	A	2
5	B	2
6	B	2
7	A	2
8	C	2
9	A	2
10	A	2
<b>II Ítem de Selección simple: Verdadero o Falso.</b>		
Nº de pregunta	Clave	Puntaje
1	Verdadero.	3
2	Verdadero.	3
3	Falso.	3
4	Falso.	3
5	Verdadero.	3
<b>III Ítems de respuesta específica.</b>		
Nº de pregunta	Clave	Puntaje
1	El alumno responde sin faltas ortográficas indicando que es un mamífero y argumenta con al menos uno de los siguientes elementos: - Tomo leche materna al nacer. - Tengo el cuerpo cubierto de pelos. - Nací por cría.	5
	El alumno comete algunos errores ortográficos al indicar que es un mamífero y argumenta con	4

	alguno de los siguientes elementos: <ul style="list-style-type: none"><li>- Tomo leche materna al nacer.</li><li>- Tengo el cuerpo cubierto de pelos.</li><li>- Nací por cría.</li></ul>	
	El alumno sin cometer faltas ortográficas solo responde que es un mamífero, pero no argumenta su respuesta.	3
	El alumno comete algunos errores ortográficos al señalar que es un mamífero, pero no argumenta su respuesta.	2
	El alumno no responde o la respuesta no se condice con lo solicitado.	0
<b>Puntaje total: 40 puntos.</b>		