

Prueba Sumativa Ciencias Naturales 3° Básico

Nombre: _____ **Fecha:** _____

Puntaje ideal: 40 p. **Puntaje obtenido:** _____ **Desempeño alcanzado:** _____

Logrado: >32.	Medianamente logrado: 25.5 – 31.5.	Por Lograr: = o <25.
---------------	------------------------------------	----------------------

Instrucciones generales: En el siguiente test se presentarán una serie de preguntas en relación a lo aprendido durante el año escolar 2020 en la asignatura de Ciencias Naturales. Lee detenidamente cada una de las preguntas y responde de acuerdo a lo que recuerdas.

I Ítem Selección Múltiple: Lee atentamente cada una de las preguntas y encierra en un círculo la alternativa correcta.

1. Observa la siguiente imagen ¿Qué característica de la luz crees que representa la imagen?



- A. La luz se compone de todos los colores del arcoíris.
- B. La luz puede viajar en línea recta.
- C. La luz se refracta.


2. ¿Cuál de las siguientes afirmaciones corresponde a una característica del sonido?

A. Los sonidos pueden ser agudos o graves.

B. El sonido puede ser observable.

C. El sonido viaja en línea recta.

3. Observa la siguiente imagen del sistema solar ¿Cuál es el nombre del planeta que señala la flecha?

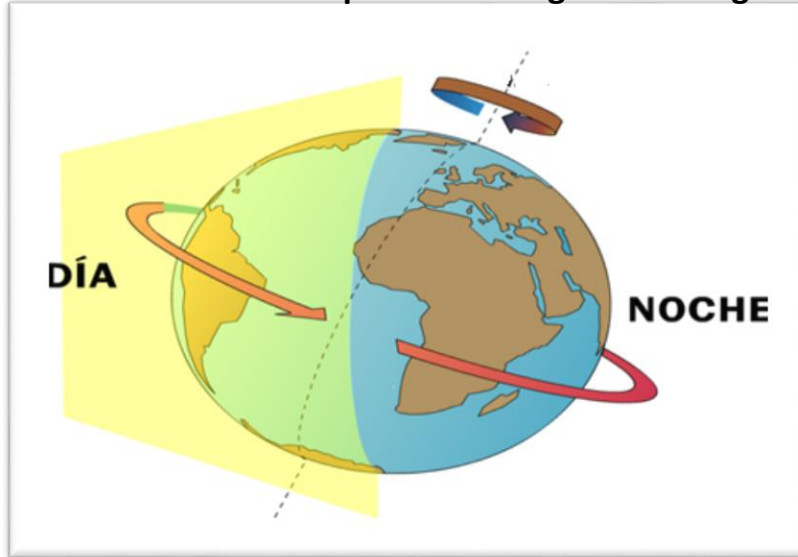


A. Venus.

B. Júpiter.

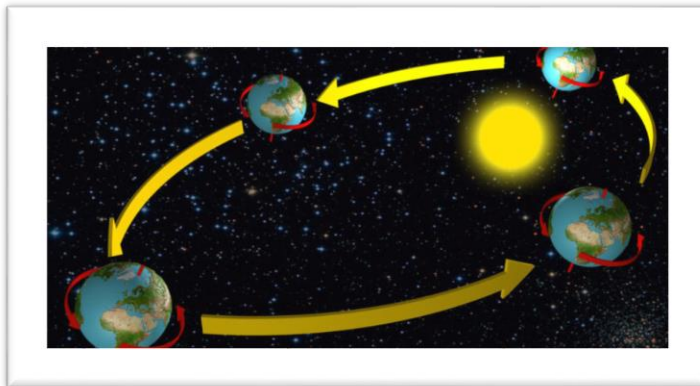
C. Saturno.

4. ¿Qué movimiento de la Tierra representa la siguiente imagen?



- A. La imagen representa el movimiento de traslación de la Tierra.
- B. La imagen representa el movimiento de rotación de la Tierra.
- C. Ninguna de las alternativas es correcta.

5. ¿Qué causa el movimiento de traslación de Tierra?



- A. El movimiento de traslación produce el día y la noche.
- B. El movimiento de traslación produce las estaciones del año.
- C. El movimiento de traslación no tiene efectos sobre el planeta Tierra.

6. ¿Qué importancia tienen las plantas para las personas?

- A. Las plantas son importantes para las personas para alimentarse y respirar.
- B. Las plantas son importantes para las personas para fabricar objetos y utilizarlas como medicina natural.
- C. A y B son correctas.

7. ¿Cuál de los siguientes alimentos corresponde a un alimento estructural?

A. manzana.



B. Leche.



C. Pan.



8. ¿Cuál de las siguientes acciones permite cuidar los recursos de la naturaleza?

- A. Solo botar basura en lugares habilitados, como por ejemplo en basureros.
- B. Reciclar.
- C. A y B son correctas.

9. ¿Cuál de los siguientes alimentos deberías consumir de manera más frecuente durante la semana?

A. Carnes rojas




B. Yogurt.



C. Donas.



10. ¿Cuál de las siguientes situaciones corresponde a una buena práctica de higiene para manipular alimentos?



II Ítem de Selección simple: Verdadero o Falso. Escribe una **V** si consideras que la afirmación es verdadera o una **F** si crees que es falsa.

1. ____	El sistema solar está conformado por 8 planetas.
2. ____	Los animales utilizan las plantas solo para respirar.
3. ____	Una opción para cuidar nuestro planeta es Reutilizar, Reducir y Reciclar.
4. ____	Los alimentos energéticos ayudan a formar y fortalecer los diferentes componentes del cuerpo.
5. ____	La ornamentación es el uso que le dan las personas a las plantas para decorar.

III Ítems de respuesta libre.

¿Qué acciones podrías realizar tú para tener una vida sana y saludable?

Pauta de corrección

I Ítem Selección Múltiple.		
Nº de pregunta	Clave	Puntaje
1	B	2
2	A	2
3	C	2
4	B	2
5	B	2
6	C	2
7	B	2
8	C	2
9	B	2
10	B	2
II Ítem de Selección simple: Verdadero o Falso.		
Nº de pregunta	Clave	Puntaje
1	Verdadero.	3
2	Falso.	3
3	Verdadero.	3
4	Falso.	3
5	Verdadero.	3
III Ítems de respuesta libre.		
Nº de pregunta	Clave	Puntaje
1	El estudiante escribe sin faltas ortográfica al menos una de las siguientes ideas: alimentación balanceada, hacer ejercicio, tomar agua, respetar los horarios de comida, disminuir azúcares y grasas, entre otras.	5
	El estudiantes escribe con errores ortográficos al menos una de las siguientes ideas: alimentación balanceada, hacer ejercicio, tomar agua, respetar los horarios de comida, disminuir azúcares y grasas,	3 – 4

	entre otras.	
	El estudiante no responde o lo que escribe no se condice con lo solicitado.	0
Puntaje total: 40 puntos.		