

Prueba Sumativa Historia, Geografía y Ciencias Sociales 2º Básico

Nombre: _____ Fecha: _____


Puntaje ideal: 40 p. Puntaje obtenido: _____ Desempeño alcanzado: _____

Logrado: >32.	Medianamente logrado: 25.5 – 31.5.	Por Lograr: = o <25.
---------------	------------------------------------	----------------------

Instrucciones generales: En el siguiente test se presentarán una serie de preguntas en relación a lo aprendido durante el año escolar 2020 en la asignatura de Historia. Lee detenidamente cada una de las preguntas y responde de acuerdo a lo que recuerdas.

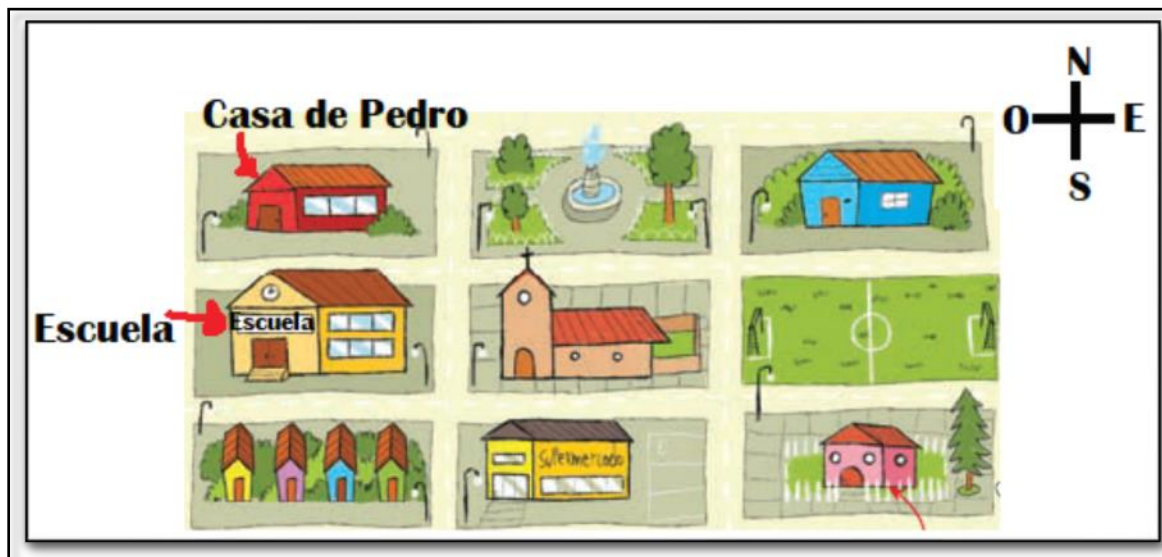
I Ítem Selección Múltiple: Lee atentamente cada una de las preguntas y encierra en un círculo la alternativa correcta.

1. Observa la siguiente imagen ¿A qué lado de árbol se encuentra el conejo?



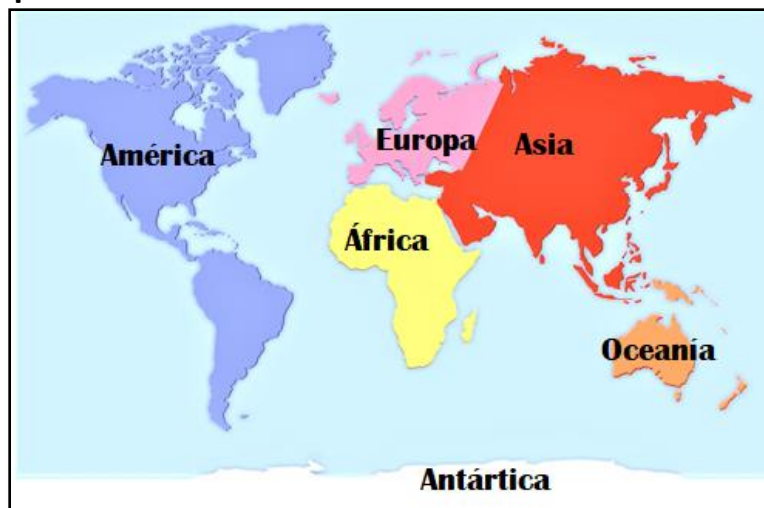
- A. El conejo se ubica al **oeste** de árbol.
- B. El conejo se ubica al **sur** del árbol.
- C. El conejo se ubica al **este** del árbol.

2. Observa el siguiente plano ¿Hacia dónde debe caminar Pedro para ir a la escuela?



- A. Pedro debe caminar hacia el **norte**.
- B. Pedro debe caminar hacia el **sur**.
- C. Pedro debe caminar hacia el **oeste**.

3. Observa el planisferio ¿En cuál continente se ubica Chile?



- A. Antártica.
- B. América.
- C. África.

4. ¿De qué color está pintado Chile en el mapa?



- A. Azul.
- B. Verde.
- C. Naranja.

5. Observa el siguiente paisaje ¿A qué zona natural de Chile crees que pertenece?



- A. Zona austral.
- B. Zona central.
- C. Zona norte.

6. Observa la siguiente imagen ¿Qué modo de vida crees que tenían?



- A. Nómada.
- B. Sedentario.
- C. No se puede saber.

7. ¿Qué actividad está desarrollando el siguiente Pueblo Originario?



- A. Pesca.
- B. Agricultura.
- C. Ganadería.

8. ¿Cuál de las siguientes imágenes corresponde a la cultura Mapuche?


A.



B.



C.




9. ¿Cuál de las imágenes representa un aporte de los Pueblos Originarios a Chile?

A. El maíz.



B. La religión Católica.



C. El idioma español.



10. ¿Cuál de las siguientes acciones permite cuidar o respetar los espacios comunes?

A.

Dejar la llave del baño abierta.



B.

Rayar la pared de la sala de clases



C.

Estar en silencio cuando los demás leen o la profesora explica.



II Ítem de Selección simple: Verdadero o Falso. Escribe una **V** si consideras que la afirmación es verdadera o una **F** si crees que es falsa.

1. ____	Una de las actividades desarrolladas por los sedentarios es la caza de animales.
2. ____	En la zona norte de Chile siempre llueve mucho.
3. ____	Quirihue se ubica en la región de Ñuble.
4. ____	Chile es un país mestizo.
5. ____	Si voy caminando por la calle y no hay un basurero cerca puedo botar el papel en cualquier parte.

III Ítems de respuesta específica.

1. Explica ¿Tú eres nómada o sedentario? ¿Por qué?

Pauta de corrección

I Ítem Selección Múltiple.		
Nº de pregunta	Clave	Puntaje
1	C	2
2	B	2
3	B	2
4	A	2
5	C	2
6	A	2
7	B	2
8	B	2
9	A	2
10	C	2
II Ítem de Selección simple: Verdadero o Falso.		
Nº de pregunta	Clave	Puntaje
1	Falso.	3
2	Falso.	3
3	Verdadero.	3
4	Verdadero.	3
5	Falso.	3
III Ítems de respuesta específica.		
Nº de pregunta	Clave	Puntaje
1	El estudiante escribe sin faltas ortográficas una idea similar a la siguiente: Soy sedentario argumentando porque siempre vive en el mismo lugar, no se cambia de hogar.	5
	El estudiante escribe con errores ortográficos una idea similar a la siguiente: Soy sedentario argumentando porque siempre vive en el mismo lugar, no se cambia de hogar.	4

	El estudiante escribe sin faltas ortográfica solo la palabra sedentario sin presentar argumentos.	3
	El estudiante escribe con faltas ortográfica solo la palabra sedentario sin presentar argumentos.	2
	El estudiante no responde o lo que escribe no se condice con lo solicitado.	0

Puntaje total: 40 puntos.