

## **Prueba Sumativa Historia, Geografía y Ciencias Sociales 3º Básico**

Nombre: \_\_\_\_\_ Fecha: \_\_\_\_\_

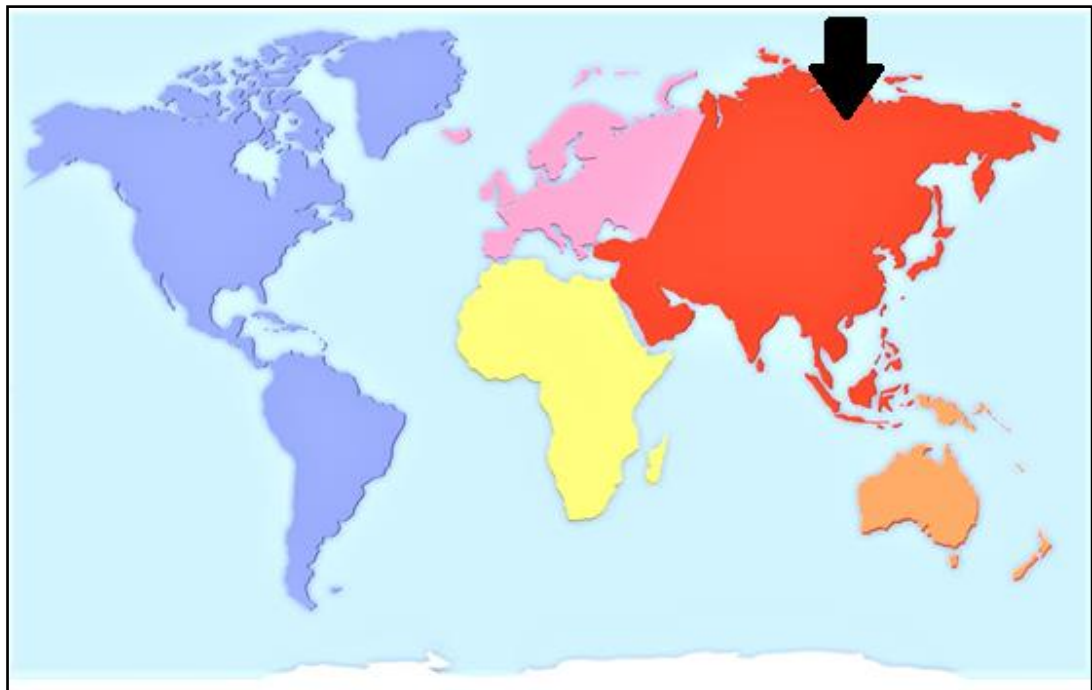
Puntaje ideal: 40 p. Puntaje obtenido: \_\_\_\_\_ Desempeño alcanzado: \_\_\_\_\_

|               |                                    |                      |
|---------------|------------------------------------|----------------------|
| Logrado: >32. | Medianamente logrado: 25.5 – 31.5. | Por Lograr: = o <25. |
|---------------|------------------------------------|----------------------|

**Instrucciones generales:** En el siguiente test se presentarán una serie de preguntas en relación a lo aprendido durante el año escolar 2020 en la asignatura de Historia. Lee detenidamente cada una de las preguntas y responde de acuerdo a lo que recuerdas.

**I Ítem Selección Múltiple:** Lee atentamente cada una de las preguntas y encierra en un círculo la alternativa correcta.

1. Observa el planisferio ¿Cuál es el nombre del continente que indica la flecha?



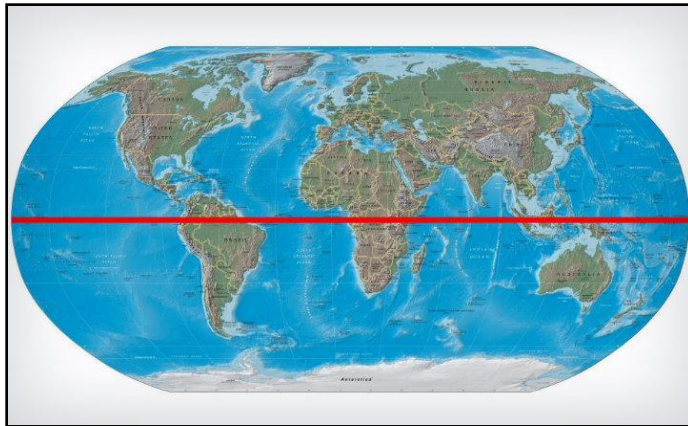
- A. África.
- B. Europa.
- C. Asia.

2. ¿Cuál es el océano que baña las costas de Chile?



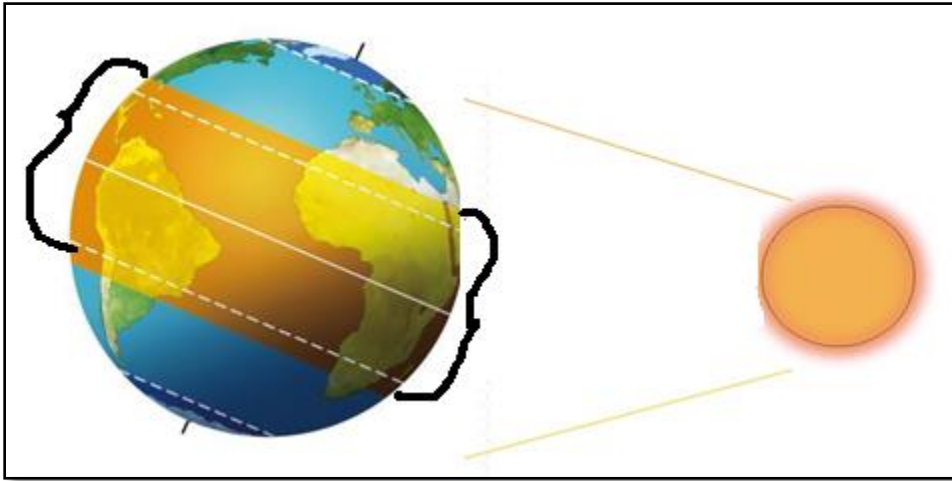
- A. Océano Atlántico.
- B. Océano Índico.
- C. Océano Pacífico.

3. ¿Cómo se llama la línea que muestra la imagen?



- A. Línea del medio.
- B. Línea del Ecuador.
- C. Meridiano de Greenwich.

4. Observa la siguiente imagen ¿a qué zona climática corresponde la zona pintada de color amarillo?



- A. Zona fría.
- B. Zona cálida.
- C. Zona templada.

5. Observa la siguiente imagen ¿a qué zona climática crees que pertenece el paisaje de la imagen?



- A. Zona fría.
- B. Zona cálida.
- C. Zona templada.

6. ¿Cuál de los siguientes legados es una herencia de los romanos?

A. Democracia.



B. Números romanos.

| Letra | Valor |
|-------|-------|
| I     | 1     |
| V     | 5     |
| X     | 10    |
| L     | 50    |
| C     | 100   |
| D     | 500   |
| M     | 1000  |

C. Juegos olímpicos.



7. ¿A qué se debió que los griegos decidieron trasladarse por mar y no por tierra?

A. Porque el terreno era muy montañoso.

B. Porque el terreno era muy seco.

C. Porque no les gustaba caminar y preferían navegar.

8. ¿Cuál de las siguientes imágenes representa una península?

A.



B.



C.



9. ¿Cuál de las siguientes afirmaciones corresponde a un derecho de los niños?

A. Hacer las tareas.

B. Tener un hogar y una familia.

C. No maltratar a mis compañeros.

**10. ¿Cuál de las siguientes afirmaciones corresponde un deber que debes cumplir?**

- A. Hacer las tareas.
- B. Recibir educación.
- C. Descansar y jugar.

**II Ítem de Selección simple:** Verdadero o Falso. Escribe una **V** si consideras que la afirmación es verdadera o una **F** si crees que es falsa.

|         |  |
|---------|--|
| 1. ____ | Chile se ubica en el continente de África.       |
| 2. ____ | En la línea del ecuador se ubica la zona cálida. |
| 3. ____ | Los griegos y romanos se ubican en América.      |
| 4. ____ | Jugar es un derecho de los niños.                |
| 5. ____ | Chile se ubica en el hemisferio sur.             |

**III Ítems de respuesta libre.**

1. ¿Por qué crees que es importante aprender sobre los griegos y romanos?

|  |
|--|
|  |
|  |
|  |
|  |

### Pauta de corrección

| <b>I Ítem Selección Múltiple.</b>                      |  |         |
|--|--|---------|
| Nº de pregunta   | Clave  | Puntaje |
| 1  | C  | 2       |
| 2  | C  | 2       |
| 3  | B  | 2       |
| 4  | B  | 2       |
| 5  | C  | 2       |
| 6  | B  | 2       |
| 7  | A  | 2       |
| 8  | C  | 2       |
| 9  | B  | 2       |
| 10   | A  | 2       |
| <b>II Ítem de Selección simple: Verdadero o Falso.</b> |  |         |
| Nº de pregunta   | Clave  | Puntaje |
| 1  | Falso.   | 3       |
| 2  | Verdadero.   | 3       |
| 3  | Falso.   | 3       |
| 4  | Verdadero.   | 3       |
| 5  | Verdadero.   | 3       |
| <b>III Ítems de respuesta específica.</b>              |  |         |
| Nº de pregunta   | Clave  | Puntaje |
| 1  | El estudiante escribe sin faltas ortográfica una idea similar a la siguiente: porque han dejado legados al mundo como la democracia, juegos olímpicos, números romanos, etc.   | 5       |
|  | El estudiante escribe con errores ortográficos una idea similar a la siguiente: porque han dejado legados al mundo como la democracia, juegos olímpicos, números romanos, etc. | 4       |

|  |  |   |
|--|--|---|
|  | El estudiante escribe sin faltas ortográfica solo porque han dejado legados. | 3 |
|  | El estudiante no responde o lo que escribe no se condice con lo solicitado.  | 0 |

**Puntaje total: 40 puntos.**