

**GUIA DE EDUCACIÓN MATEMATICA
PRIMER AÑO BASICO
NÚMEROS HASTA EL 100**



NOMBRE:.....CURSO:.....FECHA:.....

1. Escribe los numerales

1									10
									20
									30
									40
									50
									60
									70
									80
									90
									100

2. Relaciona cada numeral con el número que se descompone:

32

9D y 0 U

15

3D y 2 U

56

8D y 8 U

42

1D y 5 U

88

5D y 6 U

90

4D y 2 U

3. Observa los números y pinta el mayor:

11
31

42
12

10
9

25
20

30
40

10
11

33
43

49
50

4. Escribe el antecesor y sucesor de los siguientes números:

___ 55 ___

___ 75 ___

___ 18 ___

___ 6 ___

___ 10 ___

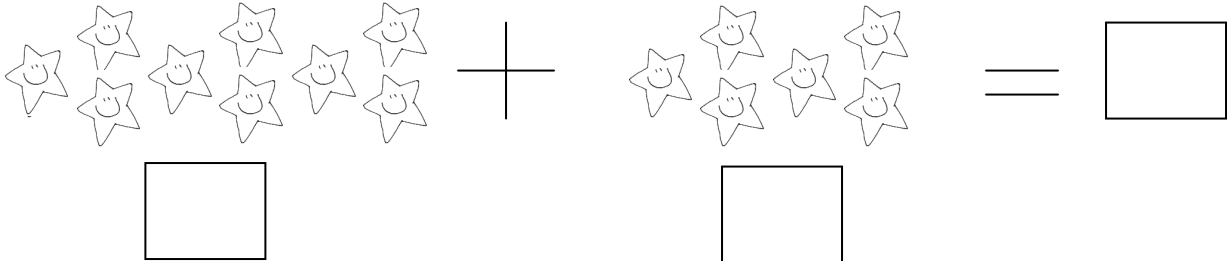
___ 53 ___

___ 22 ___

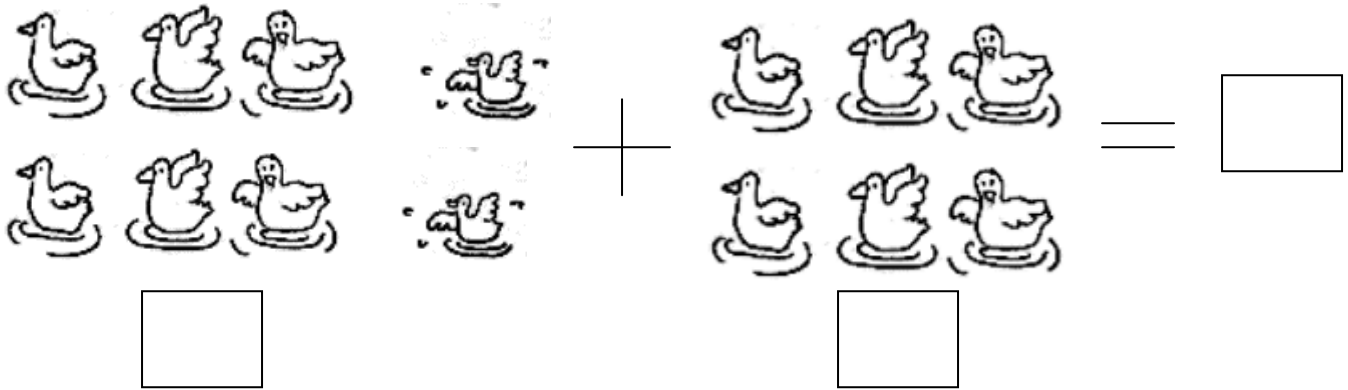
___ 15 ___

___ 44 ___

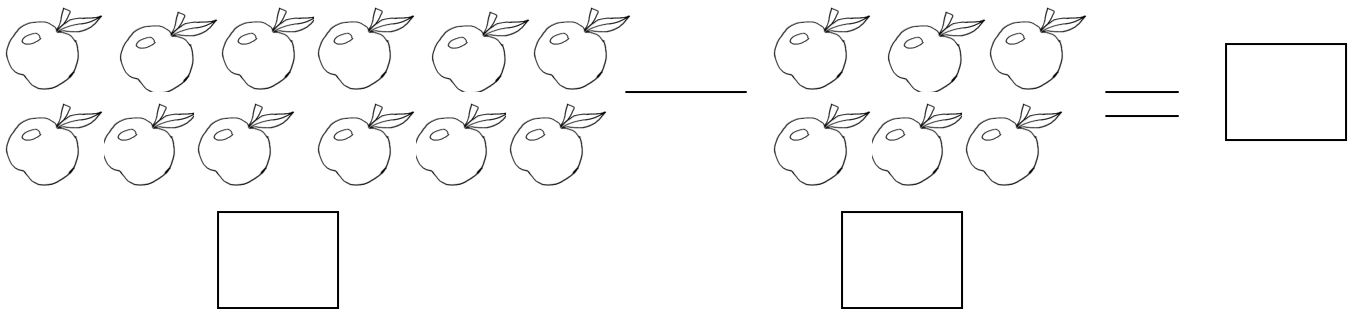
5. Resuelve las siguientes adiciones y sustracciones.



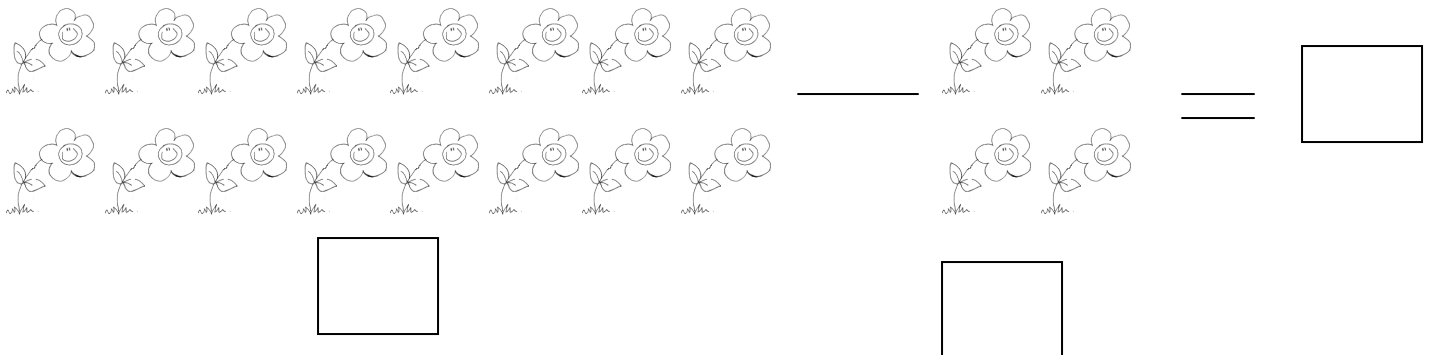
$\begin{array}{c}
 \text{6 stars} \\
 \square
 \end{array}
 +
 \begin{array}{c}
 \text{6 stars} \\
 \square
 \end{array}
 =
 \square$



$\begin{array}{c}
 \text{4 ducks} \\
 \square
 \end{array}
 +
 \begin{array}{c}
 \text{4 ducks} \\
 \square
 \end{array}
 =
 \square$



$\begin{array}{c}
 \text{10 apples} \\
 \square
 \end{array}
 -
 \begin{array}{c}
 \text{6 apples} \\
 \square
 \end{array}
 =
 \square$



$\begin{array}{c}
 \text{10 flowers} \\
 \square
 \end{array}
 -
 \begin{array}{c}
 \text{4 flowers} \\
 \square
 \end{array}
 =
 \square$