


PRUEBA DE EDUCACION MATEMATICAS
UNIDAD1: NUMEROS HASTA EL 10




NOMBRE:.....FECHA:.....

1. Cuenta cuantos animalitos hay en cada fila y escribe el número (4 puntos)



2. Completa la secuencia numérica (7 puntos)



3. Escribe el sucesor de cada número (6 puntos)

6 →

1 →

4 →

9 →

7 →

3 →

4. Escribe el antecesor de cada número (6 puntos)

← 7

← 5

← 9


← 3

← 1


← 8

5. Ordena de mayor a menor los siguientes dígitos (9 puntos)

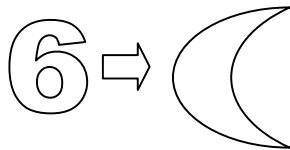
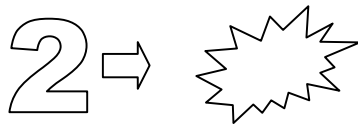
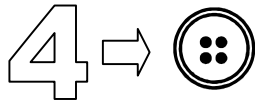
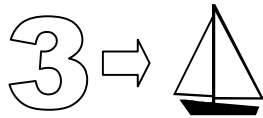
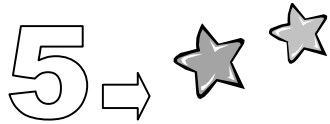
5 3 9 6 10 2 8 1 7 4



1 10 5 9 3 7 2 8 0



6. Dibuja los elementos que faltan para completar el número



Escuela Particular N°1
Sagrada Familia
1° año Básico 2009