

**PRUEBA DE EDUCACIÓN MATEMÁTICA
PRIMER AÑO BÁSICO
NÚMEROS HASTA EL 100**



NOMBRE:.....**CURSO:**.....**FECHA:**.....

1. Observa los números y pinta el mayor (8 puntos)

11	42	10	25	30	10	33	49
31	12	9	20	40	11	43	50

2. Escribe el antecesor y sucesor de los siguientes números (6 puntos)

_____ 55 _____

_____ 18 _____

_____ 6 _____

_____ 70 _____

_____ 22 _____

_____ 44 _____

3. Resuelve las siguientes adiciones y sustracciones (12 puntos)

$23 + 7 =$

$15 - 3 =$

$34 + 9 =$

$17 - 4 =$

$72 + 3 =$

$50 - 2 =$

4. Escribe en el cuadro el numeral que corresponde (9 puntos)

1 decenas =

1 decena y dos unidades =

2 unidades =

3 decenas =

6 decenas y 4 unidades =

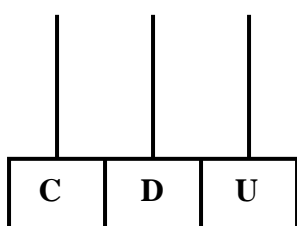
5 decenas =

0 unidades =

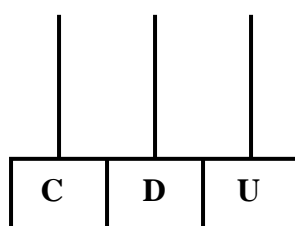
2 decenas y 3 unidades =

9 decenas =

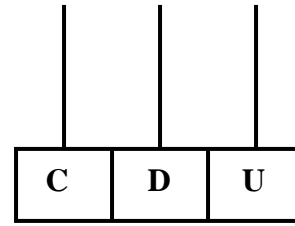
5. Representa en el ábaco los siguientes numerales (6 puntos)



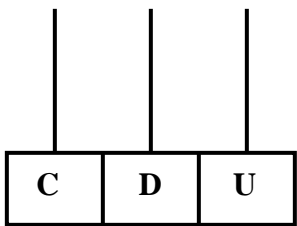
36



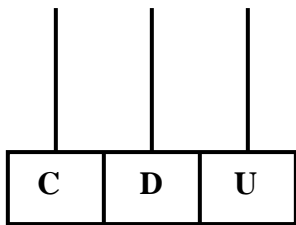
5



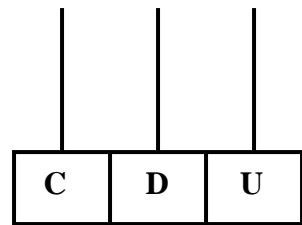
44



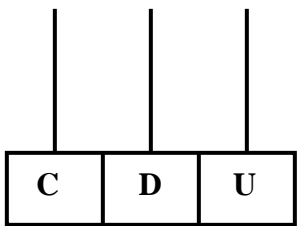
13



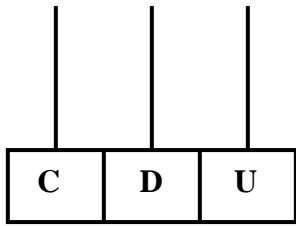
63



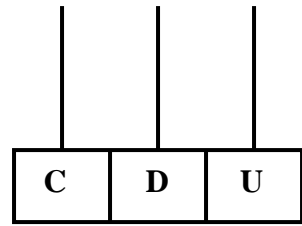
60



1



22



99

6. Une cada numeral con su correspondiente descomposición (7 puntos)

3

1 D y 0 U

72

2 D y 7 U

89

0 D y 3 U

10

3 D y 5 U

35

7 D y 2 U

27

9 D y 8 U

98

8 D y 9 U

¡Hiciste un excelente trabajo!
FELICITACIONES

